



ANADOLU ÜNİVERSİTESİ



HB – 101

TÜRKİYE HALK BANKASI SERVİS GÖREVLİSİ GİRİŞ SINAVI

21 KASIM 2009 – Cumartesi 09.30

TEST GRUBUNUZ

A

CEVAP KÂĞIDINIZA İŞARETLEMİYİ UNUTMAYINIZ.

ADAYIN

SOYADI :

ADI :

TC KİMLİK NUMARASI :

SINAV SALON NO: SIRA NO:

Soyadınızı, adınızı, TC kimlik numaranızı, salon ve sıra numaranızı yukarıya yazmayı unutmayınız.

FONKSİYONEL OLMAYAN HESAP MAKİNASI KULLANILABİLİR.

GENEL AÇIKLAMA

1. Bu soru kitapçığındaki testler şunlardır:

Testin Adı	Soru Sayısı	Sayfa No
ALAN BİLGİSİ	48	2
GENEL KÜLTÜR	24	9
GENEL YETENEK	36	12
YABANCI DİL	12	
İNGİLİZCE		20
ALMANCA		23
FRANSIZCA		26

2. Toplam sınav süresi **180** dakikadır.

3. Cevaplamaya istediğiniz testin, istediğiniz sorusundan başlayabilirsiniz. Yalnız cevaplarınızı, cevap kâğıdında o test için ayrılmış olan bölümdeki aynı numaralı cevap yerine işaretlemeyi unutmayınız.

4. Cevaplarınızı koyu siyah ve yumuşak bir kurşunkalemle işaretleyiniz. İşaretinizi cevap yerinin dışına taşırmayınız. Tükenmez veya mürekkepli kalem kullanmayınız.

5. Değiştirmek istediğiniz bir cevabı yumuşak bir silgi ile, cevap kâğıdını örselemeden temizce siliniz ve doğru cevabınızı işaretlemeyi unutmayınız.

6. Cevap kâğıdınızı buruşturmayınız, katlamayınız ve üzerine gereksiz hiçbir işaret koymayınız.

7. Bu kitapçığındaki her sorunun bir tek doğru cevabı vardır. Bir soru için birden çok cevap yeri işaretlenmişse o sorunun cevabı değerlendirme dışı bırakılacaktır.

8. Yanlış cevaplarınız dikkate alınmayacaktır. Bu nedenle kitapçığındaki tüm sorular için size doğru gelen seçeneği işaretleyerek cevapsız soru bırakmamanız yararınıza olacaktır.

9. Kitapçığın sayfalarındaki boş yerleri müsvedde için kullanabilirsiniz.

Anadolu Üniversitesi tarafından hazırlanmış olan bu testlerin her hakkı saklıdır. Hangi amaçla olursa olsun, testlerin tamamının veya bir kısmının Anadolu Üniversitesi'nin yazılı izni olmadan kopya edilmesi, fotoğraflarının çekilmesi, herhangi bir yolla çoğaltılması, yayımlanması ya da kullanılması yasaktır. Bu yasağa uymayanlar gerekli cezai sorumluluğu ve testlerin hazırlanmasındaki mali külfeti peşinen kabullenmiş sayılır.

ALAN BİLGİSİ

1. Zirai faaliyetle uğraşan kolektif şirket ortaklarının geliri aşağıdaki gelir unsurlarından hangisinin kapsamında yer alır?

- A) Zirai kazanç
- B) Ticari kazanç
- C) Diğer kazanç ve iratlar
- D) Serbest meslek kazancı
- E) Gayrimenkul sermaye iradı

2. Malvarlığı hakları hiçbir bireye veya gruba verilmeyen mallar aşağıdakilerden hangisidir?

- A) Özel mallar
- B) Yarı kamusal mallar
- C) Kulüp mallar
- D) Erdemli mallar
- E) Ortak mallar

3. Cari dönem üretimine karşı devlet tarafından doğrudan bir talep yaratmamasına rağmen, bazı kaynakların devlet bütçesi aracılığıyla kişi ve kurumlar arası karşılıksız el değiştirmesi niteliği taşıyan kamu harcamalarına ne ad verilir?

- A) Transfer harcaması
- B) Cari harcama
- C) Reel harcama
- D) Yatırım harcaması
- E) Sermaye harcaması

4. Aşağıdakilerden hangisi kamu harcamalarında, gerçek harcama - transfer harcaması ayrımının öncüsü olan iktisatçıdır?

- A) A. C. Pigou
- B) J. M. Keynes
- C) M. Friedman
- D) J. K. Galbraith
- E) J. E. Stiglitz

5. Aşağıdakilerden hangisi harcamalar üzerinden alınan vergilerden biri değildir?

- A) Katma değer vergisi
- B) Gümrük vergisi
- C) Banka ve sigorta muameleleri vergisi
- D) Özel tüketim vergisi
- E) Motorlu taşıtlar vergisi

6. Aşağıdakilerden hangisi devredilebilir haklardan biri değildir?

- A) Mülkiyet hakkı
- B) Maddi olmayan mallar üzerindeki haklar
- C) Telif hakkı
- D) Alacak hakkı
- E) İntifa hakkı

7. Aşağıdakilerden hangisi iş görme amacı güden sözleşmelerden biri değildir?

- A) Yayın sözleşmesi
- B) Vekalet sözleşmesi
- C) Kefalet sözleşmesi
- D) Hizmet sözleşmesi
- E) Eser sözleşmesi

8. Hâkimler ve Savcılar Yüksek Kurulu üyeleri Cumhurbaşkanınca kaç yıllık süresi için atanmaktadır?

- A) 1
- B) 2
- C) 3
- D) 4
- E) 5

9. Uzun zamandır kendisinden haber alınamayan bir kimsenin gaipliğine karar verilebilmesi için son haber alma tarihinden itibaren kaç yıl geçmiş olması gerekmektedir?

- A) 1
- B) 3
- C) 4
- D) 5
- E) 10

21 Kasım 2009 HB-101-A

10. Medeni Kanuna göre bir kimsenin mahkeme kararı ile ergin kılınabilmesi için kaç yaşını doldurmuş olması gerekir?

- A) 14
- B) 15
- C) 16
- D) 17
- E) 18

11. Ayırt etme gücüne sahip küçükler ile ayırt etme gücüne sahip kısıtlılar fiil ehliyeti açısından aşağıdakilerden hangisi içerisine girer?

- A) Sınırlı ehliyetsizler
- B) Tam ehliyetsizler
- C) Sınırlı ehliyetliler
- D) Tam ehliyetliler
- E) Kısıtlı ehliyetliler

12. Aşağıdakilerden hangisi sebepsiz zenginleşmeden doğan borçların koşulları arasında yer almaz?

- A) İliyet bağı
- B) Zenginleşme
- C) Haksız fiil
- D) Haklı bir sebebin bulunmaması
- E) Fakirleşme

13. Türkiye'de uygulanmakta olan muhasebe meslek yasasına göre, işletmelerin muhasebe kayıtlarını tutmaya ve finansal raporlarını hazırlamaya yetkili kişi aşağıdakilerden hangisidir?

- A) Yeminli mali müşavir
- B) Bağımsız denetçi
- C) Serbest muhasebeci mali müşavir
- D) Hesap uzmanı
- E) Ticaret sicil müdürlükleri

14. Bir ticari işletmenin satmak için aldığı ve üzerinde değişiklik yapmadan satışa sunduğu varlıklara ne ad verilir?

- A) Üretim
- B) Malzeme
- C) Mamul
- D) Mal
- E) Fire

15.

BANKALAR HS.	XXX
KASA HS.	XXX

Bu yevmiye kaydı aşağıdaki işlemlerden hangisine aittir?

- A) İşletmenin kasasındaki paranın, bankada açtırılan mevduat hesabına yatırılmasına
- B) İşletmenin kasasındaki paranın, bankadan kullanılan kredi hesabına yatırılmasına
- C) İşletmenin bankadaki mevduat hesabından havale gönderilmesine
- D) İşletmenin bankadaki mevduat hesabına havale gönderilmesine
- E) İşletmenin bankadaki mevduat hesabından kasaya para aktarılmasına

16. Hesap dönemi sonunda, mali tabloların işletmenin gerçek durumunu yansıtmasını sağlamak amacıyla eldeki varlıklarının, alacak ve borçlarının saymak, ölçmek, tartmak ve değerlemek suretiyle tespit edilmesi işlemlerine ne ad verilir?

- A) Kesin mizanın düzenlenmesi
- B) Bilançonun düzenlenmesi
- C) Aktif ve pasif hesapların kapatılması
- D) Muhasebe içi envanter
- E) Muhasebe dışı envanter

21 Kasım 2009 HB-101-A

17. İşletmenin bir dönemde gerçekleşen mal hareketleri aşağıdaki gibidir:

Tarih	İşlem	Miktar (adet)	Birim Maliyet (TL)	TUTAR (TL)
01 Ocak	Dönem başı mevcudu	1.000	500	500.000
07 Ocak	Alış	600	600	360.000
17 Ocak	Satış	1.200		
22 Ocak	Alış	400	550	220.000

Bu bilgilere ve ilk giren ilk çıkar stok değerlendirme yöntemine göre satılan malların maliyeti kaç TL dir?

- A) 620.000
B) 648.000
C) 660.000
D) 780.000
E) 860.000

18. Zengin AŞ. "A" bankasında açtığı vadesiz ticari mevduat hesabına 500 TL yatırmıştır.

Bu bilgilere göre bankanın yapacağı yevmiye kaydı aşağıdakilerden hangisidir?

A)

ŞUBELER CARİ HS.		500	
	KASA HS.		500

B)

KASA HS.		500	
	ŞUBELER CARİ HS.		500

C)

KASA HS.		500	
	RESMİ TİCARİ VE DİĞER KURULUŞLAR MEVDUATI-VADESİZ HS.		500

D)

ŞUBELER CARİ HS.		500	
	TASARUF MEVDUATI- VADESİZ HS.		500

E)

KASA HS.		500	
	TASARRUF MEVDUATI- VADESİZ HS.		500

19. İşletmenin bilanço/ gelir tablosu kaleminin bir dönemden diğerine artış veya azalış farkının aynı kalemin önceki dönemdeki tutarına bölünerek, çıkan sonucun 100 ile çarpılmasıyla elde edilen artış veya azalış yüzdesinin ve mutlak farkın birlikte yorumlandığı analiz tekniği aşağıdakilerden hangisidir?

- A) Fon akış analizi
B) Oran analizi
C) Dikey yüzde analizi
D) Trend analizi
E) Karşılaştırmalı tablolar analizi

20. Bir kişi A TL sini yıllık % 25 basit faiz oranıyla 8 aylığına, 3A TL sini yıllık % 40 basit faiz oranıyla 6 aylığına bankaya yatırıyor. Toplam faiz geliri 2 300 TL olduğuna göre, 6 aylığına yatırılan paranın faiz getirisi kaç TL dir?

- A) 1 200
B) 1 400
C) 1 500
D) 1 800
E) 1 900

21. Yıllık % 50 bileşik faiz oranıyla bankaya yatırılan 20 000 TL 3. yılın sonunda kaç TL faiz getirir?

- A) 47 500
B) 43 500
C) 40 000
D) 35 000
E) 30 000

22. Bir malın etiket fiyatı % x kârla belirleniyor. Etiket fiyatı üzerinden % 20 indirim yapılıyor. Bu malın satışından % 12 zarar edildiğine göre, x kaçtır?

- A) 5
B) 6
C) 10
D) 15
E) 20

21 Kasım 2009 HB-101-A

23. B kentinin nüfusunun % 25 i A kentine göç ederse, A kentinin nüfusu % 50 artıyor. Göçten sonra A kentinin nüfusu 60 000 olduğuna göre, B kentinde kaç kişi kalmıştır?

- A) 80 000
- B) 72 000
- C) 68 000
- D) 60 000
- E) 56 000

24. Faiz taşımayan 4 ay vadeli 5 100 TL nominal değerli bir senet, % 6 iskonto oranı üzerinden bugün bankaya iç iskontoyla kırdırılırsa ele kaç TL para geçer?

- A) 4 600
- B) 4 700
- C) 4 850
- D) 4 900
- E) 5 000

25. Bir kişi 2 ay sonra ödeyeceği ve nominal değeri 6 200 TL olan senedin yerine, daha sonra ödeyeceği ve nominal değeri 7 000 TL olan eşdeğer bir senet veriyor. Bu senedin vadesi kaç aydır? (Bu işlemde iç iskonto yöntemi ve iskonto oranı % 20 kullanılacaktır.)

- A) 10
- B) 8
- C) 6
- D) 5
- E) 4

26. Maliyet değeri 12 000 TL olan bir makinenin faydalı ömrü 12 yıl olup hurda değeri 6 000 TL dir. Doğrusal amortisman yöntemine göre, bu makinenin yıllık amortisman tutarı kaç TL dir?

- A) 350
- B) 400
- C) 450
- D) 500
- E) 600

27. Bir bankadan aylık % 2 faiz oranıyla alınan 80 bin TL lik kredi 36 ayda eşit taksitlerle geri ödenecektir.

Buna göre aylık taksit miktarı kaç TL dir?
((1,02)³⁶ @ 2 alınız.)

- A) 2 000
- B) 2 400
- C) 3 200
- D) 3 800
- E) 4 000

28. Bir bankadan 180 gün sonra ödenmek üzere 30 000 TL kredi istenmiştir. Banka faiz tutarını peşin olarak tahsil ettikten sonra 24 000 TL ödemede bulunmuştur. Buna göre, kredinin gerçek faiz oranı yüzde kaçtır? (1 yıl = 360 gün)

- A) 20
- B) 25
- C) 30
- D) 40
- E) 50

29. Bir ülke sermaye malı üretimini arttırabilmek için tüketim malları üretimini azaltıyorsa, bu ülke ekonomisiyle ilgili aşağıdaki ifadelerden hangisi doğrudur?

- A) Ekonomi, üretim imkânları eğrisi üzerinde yer almaktadır.
- B) Kaynaklar etkin olarak kullanılamamaktadır.
- C) Ekonomi, üretim imkânları eğrisi dışında kalan bir noktada yer almaktadır.
- D) Ekonomi, üretim imkânları eğrisi içinde kalan bir noktada yer almaktadır.
- E) Tüketim malları üretiminde kaynak israfı söz konusudur.

30. I. Çevre kirliliği
II. Düşük ücretler
III. Yüksek faiz oranları

Yukarıdakilerden hangileri piyasa aksaklığı kapsamında değerlendirilir?

- A) Yalnız I
- B) Yalnız II
- C) Yalnız III
- D) II ve III
- E) I, II ve III

21 Kasım 2009 HB-101-A

31. Sağlık Bakanlığının, armut yetiştiricileri tarafından kullanılan gübrenin yetişkin ve çocuklar üzerinde kanserojen etki yarattığını açıklaması durumunda armut piyasasında nasıl bir değişiklik gözlenir?

- A) Denge fiyatı düşer, denge miktarı artar.
- B) Denge fiyatı ve denge miktarı değişmez.
- C) Denge fiyatı düşer, denge miktarı azalır.
- D) Denge fiyatı yükselir, denge miktarı azalır.
- E) Denge fiyatı yükselir, denge miktarı artar.

32. X malı çok küçük ancak pozitif bir talebin gelir esnekliği katsayısına sahipse, bu mal ile ilgili aşağıdaki ifadelerden hangisi doğrudur?

- A) Zorunlu maldır.
- B) Lüks maldır.
- C) Düşük maldır.
- D) Çok sayıda ikamesi vardır.
- E) Çok sayıda tamamlayıcısı vardır.

33. I. Tavan fiyatı uygulaması
II. Artan marjinal maliyetin varlığı
III. Tekel piyasalarının varlığı

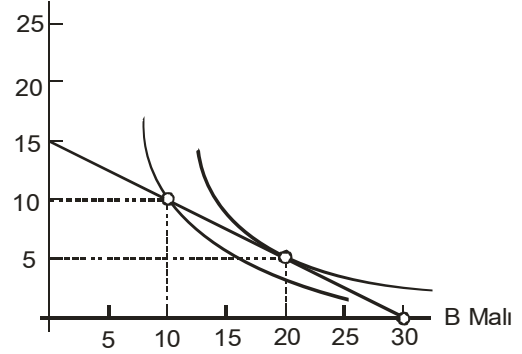
Yukarıdakilerden hangileri piyasaların etkinliğe ulaşmasının önündeki engeller arasında yer alır?

- A) Yalnız I
- B) Yalnız II
- C) I ve II
- D) I ve III
- E) II ve III

34. Bir malın tüketilen miktarı arttıkça, azalan marjinal faydanın söz konusu olabilmesi için toplam faydanın ne şekilde değişmesi gerekir?

- A) Artan oranda artması
- B) Azalan oranda artması
- C) Artan oranda azalması
- D) Sabit oranda azalması
- E) Sabit oranda artması

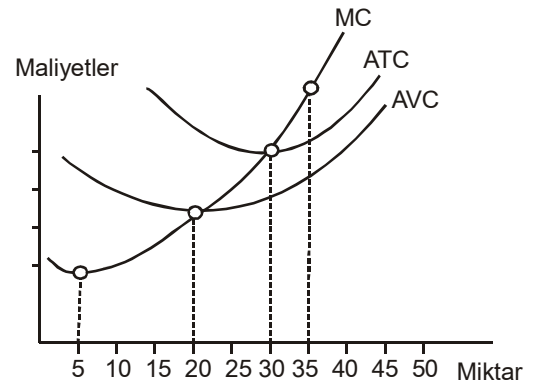
35. A Malı



A ve B mallarının tüketimi için ayrılan bütçenin 45 TL olduğu varsayımı altında, yukarıdaki grafiğe göre A malı fiyatı kaç TL dir?

- A) 2
- B) 2,25
- C) 2,50
- D) 3
- E) 4

36.



Yukarıdaki grafikte, 20 birimlik üretimden sonra AVC eğrisinin yükselmesinin nedeni aşağıdakilerden hangisidir?

- A) $ATC > AVC$ olması
- B) $MC > AVC$ olması
- C) MC nin artması
- D) ATC ve AVC eğrilerinin birbirine yaklaşması
- E) ATC nin o bölgede negatif eğimli olması

21 Kasım 2009 HB-101-A

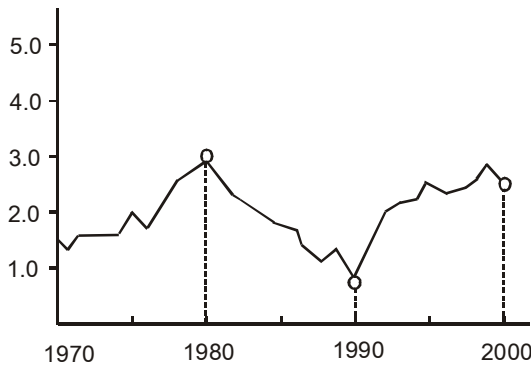
37. Bir malın değişen fiyatı karşısında talep eğrisinin tam esnek olması ile ilgili aşağıdaki ifadelerden hangisi doğrudur?

- A) Marjinal gelir fiyata eşittir.
- B) Marjinal gelir sıfırdır.
- C) Talep eğrisi yatay eksene 90° diktir.
- D) Talep eğrisi pozitif eğimlidir.
- E) Marjinal maliyet sıfırdır.

38. Tam rekabet koşullarında çalışan bir firma kapatma kararı alırsa, toplam zararı aşağıdakilerden hangisine eşit olur?

- A) Toplam değişken maliyete
- B) Minimum ortalama değişken maliyete
- C) Ortalama toplam maliyete
- D) Toplam sabit maliyete
- E) Toplam maliyete

39. Enflasyon oranı
(Yıllık, %)



Bir ülkedeki yıllık enflasyon oranının 1970 – 2000 dönemindeki seyrini gösteren yukarıdaki grafiğe göre, bu ekonomide deflasyonist süreç yaşanan dönem hangisidir?

- A) Deflasyonist dönem söz konusu değildir.
- B) 1970 – 1980
- C) 1980 – 1990
- D) 1990 – 2000
- E) 1970 – 2000

40.

Yıl	Fiyat Düzeyi	Nominal GSYİH
1989	100	1.600
1999	150	3.000
2009	300	6.000

Yukarıdaki tabloya göre, 1989 yılı baz yılı olarak kabul edilirse 2009 yılı reel GSYİH değeri kaç TL olur?

- A) 160
- B) 1.500
- C) 1.600
- D) 2.000
- E) 3.000

41. Yarı-zamanlı (part-time) olarak çalışan ancak tam zamanlı (full-time) çalışmak isteyen bir kişinin resmi işsizlik istatistiklerindeki durumu aşağıdakilerden hangisidir?

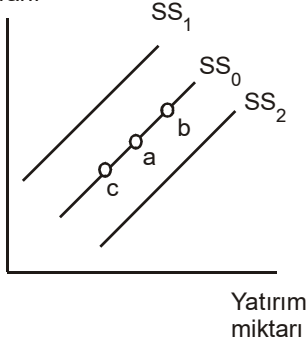
- A) İşsizlere dahildir.
- B) Yarı işsiz - yarı istihdam edilenlere dahildir.
- C) İşinden memnunsam istihdam edilenlere, memnun değilsem işsizlere dahildir.
- D) İstihdama dahildir.
- E) Yarı işsiz olarak kabul edilir.

42. Aşağıdakilerden hangisi toplam talep eğrisinin yer değiştirmesine neden olmaz?

- A) Kamu harcamalarında azalma
- B) Fiyatlar genel düzeyinde artış
- C) Gelecekte elde edilmesi beklenen gelirden artış
- D) Para arzında azalma
- E) Diğer ülkelerin cari gelirinde artış

21 Kasım 2009 HB-101-A

43. Reel faiz oranı



Ekonomi başlangıçta tasarruf arz eğrisi SS_0 üzerindeki a noktasında yer almaktadır. Hanehalklarının gelecekteki gelirlerinde bir azalma olacağını düşünmeleri durumunda yukarıdaki grafiğe göre ekonomide nasıl bir değişiklik ortaya çıkar?

- A) Tasarruf arz eğrisi SS_2 konumuna gelir.
- B) Tasarruf arz eğrisi SS_1 konumuna gelir.
- C) SS_0 eğrisi üzerinde b noktasına kayılır.
- D) SS_0 eğrisi üzerinde c noktasına kayılır.
- E) SS_0 eğrisi üzerinde a noktasında kalınır.

44. Çizilecek bir grafikte tüketim fonksiyonu ile 45° doğrusu arasındaki dikey uzaklık aşağıdakilerden hangisidir?

- A) Yatırımlar
- B) Tasarruflar
- C) Dayanıklı tüketim malı harcamaları
- D) Tüketim ve yatırım harcamaları arasındaki fark
- E) Kamu harcamaları

45. Aşağıdakilerden hangisi tüketim fonksiyonunun bir bütün olarak yer değiştirmesine neden olmaz?

- A) Servetteki değişme
- B) Faiz oranındaki değişme
- C) Beklenen gelirde değişme
- D) Nüfustaki değişme
- E) Harcanabilir gelirdeki değişme

- 46. I. Doğal işsizlik oranı
- II. Beklenen enflasyon
- III. Toplam talep

Kısa dönem Phillips eğrisi, enflasyonla işsizlik arasındaki ilişkiyi incelerken yukarıda sıralanan değişkenlerden hangilerini sabit kabul eder?

- A) Yalnız III
- B) I ve II
- C) I ve III
- D) II ve III
- E) I, II ve III

- 47. I. Çalışılan saat başına düşen sermaye miktarında azalma
- II. Yeni sermaye malları yatırımında azalma
- III. Kârlılık olanaklarında artış
- IV. Yatırımlarda artış

Resesyona giren bir ekonominin resesyondan çıkışına kadar olan gelişmelerinin doğru sıralanışı aşağıdakilerden hangisidir?

- A) I, II, III ve IV
- B) II, I, III ve IV
- C) II, I, IV ve III
- D) II, III, I ve IV
- E) IV, I, II ve III

48. A ülkesi X malının üretiminde B ülkesine göre daha düşük bir fırsat maliyetine sahipse aşağıdaki ifadelerden hangisi doğrudur?

- A) A ve B ülkeleri dış ticareten herhangi bir yarar elde edemezler.
- B) B ülkesi X malı üretiminde mutlak üstünlüğe sahiptir.
- C) A ülkesi X malı üretiminde mutlak üstünlüğe sahiptir.
- D) B ülkesi X malı üretiminde karşılaştırmalı üstünlüğe sahiptir.
- E) A ülkesi X malı üretiminde karşılaştırmalı üstünlüğe sahiptir.

GENEL KÜLTÜR

49. Küresel iklim değişiminin; sıcaklıkla ilgili hastalık ve ölümler, aşırı hava olayları ve hava kirliliğiyle ilişkili, kemirici kaynaklı hastalıklar, yetersiz gıda ve suya bağlı sorunlar, ruhsal ve beslenme sorunları gibi sağlık etkileri olacaktır. İklim değişimiyle bağlantılı rahatsızlıkların başında alerjiler geliyor. Hava kirliliği solunum hastalıklarını önemli ölçüde artırıyor. İklim değişimi; yer seviyesindeki ozon ve karbondioksit miktarlarında, partikül madde seviyelerinde, kuraklıkta, orman yangınlarında, polenlerde, küf ve mantarlarda artışa neden olup solunan hava kalitesini çok bozuyor. Örneğin son yıllarda sıklığı ve şiddeti artan sıcak hava dalgaları nedeniyle yazın ölüm ve acil servis başvuruları arttı. Bundan da en çok yaşlılar, kalp, damar ve solunum sistemi hastaları, bebekler etkileniyor. Artık dünyada bağ bozumu 1940'lı yıllara göre 1 ay önce yapılabiliyor. İklim değişimi yüzünden ölüm oranlarındaki artışta bir tür "erken hasat".

Yukarıdaki parçada aşağıdakilerin hangisine değinilmemiştir?

- A) Solunan havadaki kalitenin düşmesi sonucu alerjik hastalıkların görülme sıklığının arttığına
B) Küresel iklim değişiminin sadece iklimle ilgili değil yaşamın tüm alanları ile ilgili zincirleme etkisinin olacağına
C) Sera gazlarının etkilerinin azaltılması yönünde küresel çalışmaların başladığına
D) Belli yaşın üzerindeki bireylerin dolaşımı ve solunumla ilgili sorunlarında artış olduğuna
E) Ekinlerin olgunlaşması ve ürünlerin toplanması tarihlerinin daha erken dönemlere kaydığına

50. Aşağıdaki cümlelerin hangisinde "neden" belirtilmektedir?

- A) Karışmayayım dedim, ama dayanamadım.
B) Gençlerin bunu bilmesi gerekir.
C) Düşüncelerinin doğruluğunu kanıtlamalısın.
D) Yeterince çalışmadığından başarılı olamadı.
E) Kendini beğenmeyen insan yoktur.

51. Aşağıdaki cümlelerin hangisinde bir anlatım bozukluğu vardır?

- A) Resim yarışmasında ödül almış.
B) Otobüs, ineceğim yerde durmadı.
C) Pencereden bakan kişi kardeşim değil.
D) Dolaptaki çürümüş domatesleri çöp kutusuna attım.
E) Pazartesinin akşamları, yürüyüşe çıkarız.

52. Özellikle genç yazarlar dile gereken önemi vermiyorlar. Unutmamak gerekir ki yazarlar için dil herşeydir. Bir yazarın bu gerçeği anlamaması, anlatımının yanlışlarla dolu olması büyük bir hata. Yazarların üslupları güzel ya da kötü olabilir; ama dili kötü kullanan kişi, yazar olamaz, olmamalıdır. Çünkü her yazar öncelikle bir dil emekçisi, her yapıt da bir dil ürünüdür.

Bu parçada asıl anlatılmak istenen aşağıdakilerden hangisidir?

- A) Belli bir dil eğitiminden geçmemiş kişiler, yazar olamazlar.
B) Yazarların ilk ve temel koşulu dili doğru kullanmaktır.
C) Kendine özgü bir üslubu bulunmayan kişi yazar sayılmaz.
D) Yazarlar yaşlandıkça dili daha iyi kullanırlar.
E) Yazarın bir görevi de anadilini korumak ve geliştirmektir.

53. (I) Çocukluğumda evimizdeki plaklardan şarkılar dinledim. (II) Müzik zevkim bu şarkılarla gelişti. (III) Müzik alanında yapılmış doğru ve güzel işleri, yanlışlardan, kötülerden ayırmayı öğrendim. (IV) Müzik için, beste yapmak için dünyaya geldiğimi fark ettim. (V) Bestelerim beğenildikçe bende daha güzel eserler verme isteği doğdu.

Bu parçada numaralanan cümlelerin hangisinde neden-sonuç ilişkisi vardır?

- A) I
B) II
C) III
D) IV
E) V

21 Kasım 2009 HB-101-A

54. Ben şiirlerimde yaşam koşulları ağır diye karamsarlığa saplanıp kalmıyorum. Okurlarımı da iyimser olmaya yönlendiriyorum. Çünkü başarısızlıkların yanı başında başarı olanaklarının yattığına inanıyorum. Yapıtlarımda iyimserlik gerçeğini araştırıp bulmak isteyişim de buradan kaynaklanıyor. Ancak hiçbir zaman geleneksel anlamda bir mutluluk şairi değilim. Ama mutluluğa yönelik malzemeleri bulursam bunları yazmaktan da çekinmiyorum.

Bu sözleri söyleyen bir yazar, aşağıdakilerden hangisiyle nitelendirilebilir?

- A) Şiirleriyle okurlarını umutsuzluğa düşürmemeye çalışan
- B) Konu bulmakta sıkıntı çekmeyen
- C) İçinde bulunduğu koşulları kabullenmiş olan
- D) Şiirde yeni bir çığır açtığını savunan
- E) Yapıtlarında kendi yaşamını işlemekten kaçınan

55. Geleneksel Oscar film ödülleri 25 Mart'ta Los Angeles'ta yapılan ödül töreniyle sahiplerine dağıtıldı.

Bu cümlede aşağıdaki sorulardan hangisinin karşılığı yoktur?

- A) Ne zaman?
- B) Nerede?
- C) Ne?
- D) Kime?
- E) Kim?

56. Vatanın bütünlüğünün, milletin bağımsızlığının tehlikede olduğu, milletin bağımsızlığını milletin azim ve kararının kurtarabileceği ilk kez hangi belgede açıklanmıştır?

- A) Erzurum Kongresi kararlarında
- B) Misak-ı Milli kararlarında
- C) Halkçılık Bildirisi'nde
- D) Sivas Kongresi sonuç bildirisinde
- E) Amasya Tamimi'nde

57. Aşağıdakilerden hangisi I. TBMM'nin otoritesini güçlendirmek için yaptığı uygulamalardan biri değildir?

- A) Güçler birliği ilkesini benimsemesi
- B) İstiklal Mahkemesi aracılığıyla yargı yetkisi üstlenmesi
- C) İstanbul Hükümeti'nin bütün eylemlerini hükümsüz sayması
- D) Düzenli bir ordu kuması
- E) Kanun-i Esasiye uygun davranması

58. Yeni Türk alfabesinin kabulünden sonra alfabenin bütün yurttaki altı ay gibi kısa bir sürede kullanılmasını kolaylaştıran eğitim kurumu aşağıdakilerden hangisidir?

- A) Türk Dil Kurumu
- B) Halkevleri
- C) Millet Mektepleri
- D) Köy Enstitüleri
- E) Halkodaları

59. Mustafa Kemal Atatürk'ün "İnkılâbın hedefini kavramış olanlar onu daima muhafazaya muktedir olacaklardır" sözleri hangi ilkeyi işaret eder?

- A) Milliyetçilik
- B) Cumhuriyetçilik
- C) Devletçilik
- D) Devrimcilik
- E) Laiklik

60. Aşağıdakilerin hangisi Mustafa Kemal Atatürk'ün "ulusçuluk" tanımı içinde yer almaz?

- A) Var olan değerlerin korunmasında beraber hareket edilmesi
- B) Beraber yaşamak hususunda ortak arzuya sahip olunması
- C) Temelinin ırka ve dine dayalı olması
- D) Zengin bir hatıra mirasına sahip olunması
- E) Ulusun siyasal bakımdan varlığını ortaya koyması

21 Kasım 2009 HB-101-A

61. Aşağıdaki ifadelerden hangisi Sosyal ve Ekonomik Haklar ve Ödevler kapsamında yer alır?

- A) Basın hürdür sansür edilemez.
- B) Kimse eğitim ve öğretim hakkından yoksun bırakılamaz.
- C) Herkes önceden izin almaksızın silahsız ve saldırsız toplantı düzenleme hakkına sahiptir.
- D) Herkes düşünce ve kanaat hürriyetine sahiptir.
- E) Kimsenin konutuna dokunulamaz.

62. Atatürkçü düşüncüyü, Atatürk ilke ve inkılaplarını, Türk kültürünü, Türk tarihini ve Türk dilini bilimsel yoldan araştırmak, tanıtmak ve yaymak ve yayınlar yapmak aşağıdaki kurumlardan hangisinin görevidir?

- A) Atatürk Araştırma Merkezi
- B) Yüksek Öğretim Kurumu
- C) Atatürk Kültür, Dil ve Tarih Yüksek Kurumu
- D) Kültür ve Turizm Bakanlığı
- E) Üniversiteler

63. Aşağıdakilerden hangisi TBMM'nin bilgi edinme ve denetim yollarından biri değildir?

- A) Meclis soruşturması
- B) Meclis araştırması
- C) Genel görüşme
- D) Gensoru
- E) Referandum

64. Cumhurbaşkanı'nın aşağıdaki görev ve yetkilerinden hangisi "yasama" ile ilgilidir?

- A) Milletlerarası antlaşmaları onaylamak ve yayımlamak
- B) TBMM seçimlerinin yenilenmesine karar vermek
- C) Karameleri imzalamak
- D) Başbakanın teklifi üzerine bakanları atamak ve görevlerine son vermek
- E) Milli Güvenlik Kurulu'nu toplantıya çağırarak

65. Sıkıyönetim veya olağanüstü hal ilan etmek üzere toplanan Bakanlar Kurulu aşağıdakilerin hangisinin başkanlığında toplanır?

- A) Milli Savunma Bakanı
- B) Anayasa Mahkemesi Başkanı
- C) Cumhurbaşkanı
- D) Adalet Bakanı
- E) Başbakan

66. TC Anayasası'na göre temel hak ve hürriyetler aşağıdaki durumlardan hangisinde kısıtlanamaz?

- A) Sıkıyönetim
- B) Sel felaketi
- C) Savaş
- D) Seferberlik
- E) Olağanüstü hal

67. İdarenin hukuka uygunluğunun, düzenli ve verimli şekilde yürütülmesinin ve geliştirilmesinin sağlanması amacıyla kurulan Devlet Denetleme Kurulu aşağıdakilerden hangisine bağlı olarak çalışır?

- A) TBMM
- B) Cumhurbaşkanı
- C) Bakanlar Kurulu
- D) Anayasa Mahkemesi
- E) Başbakan

68. Aşağıdakilerden hangisi hükümetler arası en büyük güvenlik teşkilatı olma özelliğine sahip Avrupa Güvenlik ve İşbirliği Teşkilatı'nın (AGİT) çalışma alanlarından biri değildir?

- A) Ülkelerarası güvenliğin sağlanması için silahlanmanın kontrolü
- B) Geniş kapsamlı bir istikrar hedefi çerçevesinde ülkelerde adil seçimlerin düzenlenebilmesi
- C) İnsan haklarının güvence altına alınması için çaba gösterilmesi
- D) Ulusal basın kuruluşlarının özgürlüklerinin desteklenmesi
- E) Kyoto protokolünün ilgili ülkeler tarafından imzalanması sürecinin takip edilmesi

21 Kasım 2009 HB-101-A

69. Uluslararası Enerji Ajansının 2100 yılında toplam enerjinin "yenilenebilir enerji"den üretileceğini öngörmesinden hareketle aşağıdakilerden hangisi enerji yasası ile planlanması gereken enerji alanlarından biri değildir?

- A) Buhar
- B) Su
- C) Fosil
- D) Rüzgar
- E) Güneş

70. Aşağıdaki ülkelerden hangisi global milli gelirin yüzde 15'ine sahip olup, Dünya Ticaret Örgütü (WTO) tahminine göre 2050 yılında dünyanın en büyük ilk 5 ekonomisi arasında yer alamayacaktır?

- A) Çin
- B) Hindistan
- C) Brezilya
- D) Rusya
- E) Almanya

71. Aşağıdakilerden hangisi yenilenebilir enerji kaynaklarının özelliklerinden biri değildir?

- A) Güvenilir olması
- B) Coğrafi olarak her bölgede üretilebilmesi
- C) Üretim maliyetinin düşük olması
- D) Temiz olması
- E) Kesintisiz olması

72. İlisu Barajı'nın yapımı ve su tutmaya başlaması ile birlikte sular altında kalması beklenen ve Türkiye'deki ve dünyadaki sivil toplum örgütleri tarafından engellenmeye çalışılan baraj projesi ile adı öne çıkan Artuklular döneminden kalan tarihi yerleşim yeri aşağıdakilerden hangisidir?

- A) Harran
- B) Dara
- C) Hasankeyf
- D) Zeugma
- E) Yusufeli

GENEL YETENEK

73.

$$\begin{array}{r} A \ 5 \cdot \\ \times \quad \cdot 3 \\ \hline \cdot \cdot \cdot \cdot \\ + \quad \cdot \cdot \cdot \\ \hline B \cdot \cdot 57 \end{array}$$

Yukarıdaki çarpma işleminde A, B sıfırdan farklı rakamlardır ve her nokta bir rakamın yerini tutmaktadır.

Buna göre A + B en az kaçtır?

- A) 4
- B) 5
- C) 6
- D) 7
- E) 11

74.

$$y \cdot z^2 > 0$$

$$x^2 \cdot z < 0$$

$$x + y - z > 0$$

olduğuna göre, aşağıdaki ifadelerden hangisi kesinlikle yanlıştır?

- A) $x \cdot y < 0$
- B) $y \cdot z > 0$
- C) $x \cdot y \cdot z < 0$
- D) $\frac{x \cdot z}{y} < 0$
- E) $z + y - x < 0$

75. K, L ve M sıfırdan farklı birer rakam olmak üzere, $\frac{KLMKLM}{KLM} - \frac{KLOKL}{KL}$ işleminin sonucu aşağıdakilerden hangisidir?

- A) -1
- B) 0
- C) 1
- D) 10
- E) 100

21 Kasım 2009 HB-101-A

76. Toplamları 282 olan ardışık üç çift tamsayının en küçüğü a, toplamları 249 olan ardışık üç tek tamsayının en büyüğü b dir.

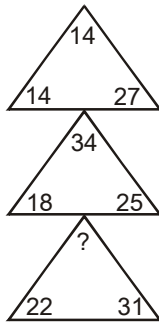
Buna göre, a - b kaçtır?

- A) 3
B) 5
C) 7
D) 9
E) 11

77. $\left(1 - \frac{2}{3}\right) \cdot \left(1 - \frac{3}{4}\right) \cdot \left(1 - \frac{4}{5}\right) \cdot \dots \cdot \left(1 - \frac{x-1}{x}\right) = \frac{1}{360}$ ise, x kaçtır?

- A) 6
B) 7
C) 8
D) 9
E) 10

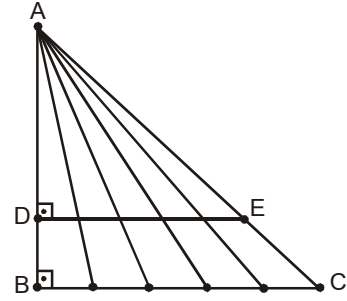
78.



Yukarıdaki şekilde sayılar belirli bir kurala göre oluşturulmuştur. Buna göre, soru işareti yerine aşağıdakilerden hangisi gelmelidir?

- A) 24
B) 28
C) 35
D) 43
E) 47

79.

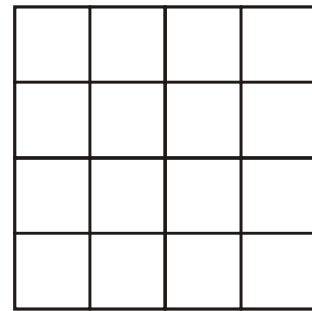


Yukarıdaki ABC dik üçgeninde $[DE] \parallel [BC]$ dir.

Şekildeki dik üçgen sayısı A, dik olmayan üçgen sayısı B olduğuna göre, B - A kaçtır?

- A) 5
B) 7
C) 9
D) 10
E) 13

80.



Yukarıdaki büyük kare kenar uzunluğu 1 cm olan 16 eş kareye bölünmüştür.

Büyük karenin içinde, çevre uzunluğu 10 cm olan kaç tane farklı dikdörtgen vardır?

- A) 10
B) 14
C) 16
D) 20
E) 24

21 Kasım 2009 HB-101-A

81. Bir öğrenci ilk üç sınavında 100 üzerinden 40, 23 ve 37 almıştır. Puanlarının ortalaması 60 ın üzerinde ve girdiği tüm sınavlarda 70 in üzerinde puan alamadığına göre, bu öğrenci en az kaç sınava daha girmiştir?

- A) 5
- B) 6
- C) 7
- D) 8
- E) 9

82. Bir ipin ucuna, uzunluğunun $\frac{4}{9}$ u kadar ip ilave edilince ipin orta noktası 24 cm yer değiştiriyor.

Buna göre, ilave edilen ipin uzunluğu kaç cm dir?

- A) 30
- B) 36
- C) 42
- D) 48
- E) 54

83. Cenk'in şimdiki yaşı, Ceren'in şimdiki yaşının 3 katından 1 fazladır. Ceren, Cenk'in şimdiki yaşına geldiğinde, ikisinin yaşları toplamı 75 oluyor.

Buna göre, Cenk ve Ceren'in şimdiki yaşlarının toplamı kaçtır?

- A) 29
- B) 33
- C) 37
- D) 41
- E) 45

84. Bir kırtasiyeci aldığı her bir koli kalem için belli bir miktar eşantiyon kalem alıyor. Bu durumda kırtasiyecinin maliyeti yüzde 20 azalıyor.

Kırtasiyeci 3 koli kalem aldığında kaç adet eşantiyon kalem alır? (1 koli içerisinde 12 adet kalem vardır.)

- A) 9
- B) 11
- C) 15
- D) 18
- E) 22

85. Silindir şeklinde 60 m yüksekliğindeki bir havuz üstten akan bir muslukla 80 saatte doluyor. Dolu havuzu 140 saatte boşaltabilecek bir musluk, havuzun dibinden 15 m yukarıya takılıyor.

Buna göre, iki musluk açık iken boş havuz kaç saatte dolar?

- A) 110
- B) 120
- C) 140
- D) 160
- E) 180

86. Eşit kapasitedeki 12 işçi bir işi 20 günde bitirebiliyor. 4 gün çalıştıktan sonra aynı nitelikte 4 işçi daha çalışmaya katılıyor. İşin tamamı kaç günde biter?

- A) 8
- B) 10
- C) 14
- D) 16
- E) 18

87. Boyutlarının uzunluğu 12m, 36m ve 42 m olan dikdörtgenler prizması şeklindeki bir depoya en büyük ve eşit hacimli kaç tane küp şeklinde kutu, boşluk kalmayacak şekilde yerleştirilebilir?

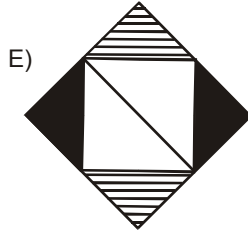
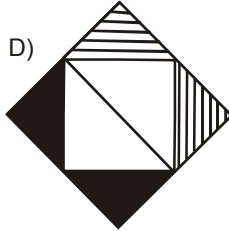
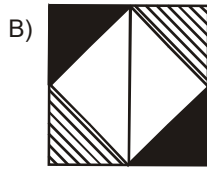
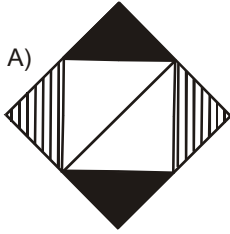
- A) 64
- B) 84
- C) 112
- D) 432
- E) 672

21 Kasım 2009 HB-101-A

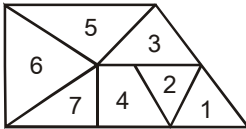
88.



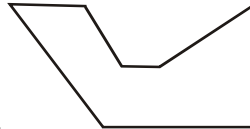
Yukarıdaki şekil, saat yönünde 135 derece döndürüldüğünde aşağıdakilerden hangisi oluşur?



89.



A



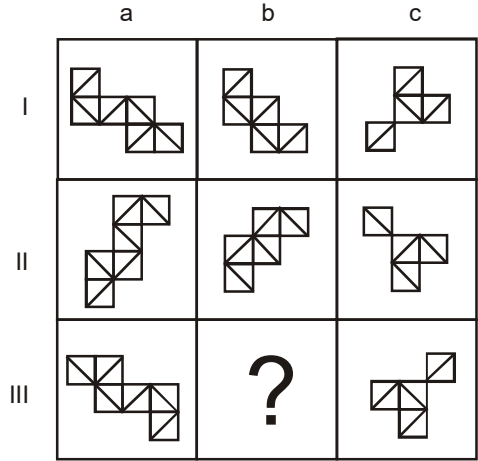
B

Yukarıdaki B şekli A şeklinden iki parça çıkarıldıktan sonra döndürülerek elde edilmiştir.

Buna göre, çıkarılan parçalar aşağıdakilerden hangisinde birlikte verilmiştir?

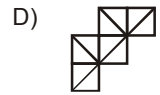
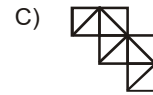
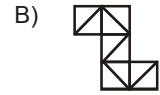
- A) 1-2
B) 2-4
C) 3-5
D) 4-7
E) 6-7

90.



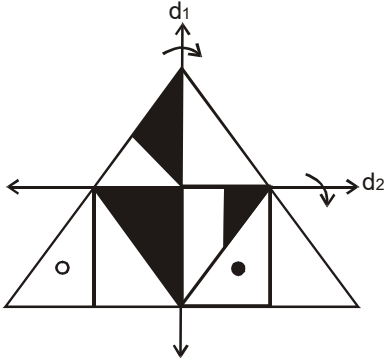
Yukarıdaki şekil matrisi belirli bir kurala göre oluşturulmuştur.

Buna göre, soru işareti yerine aşağıdakilerden hangisi gelmelidir?

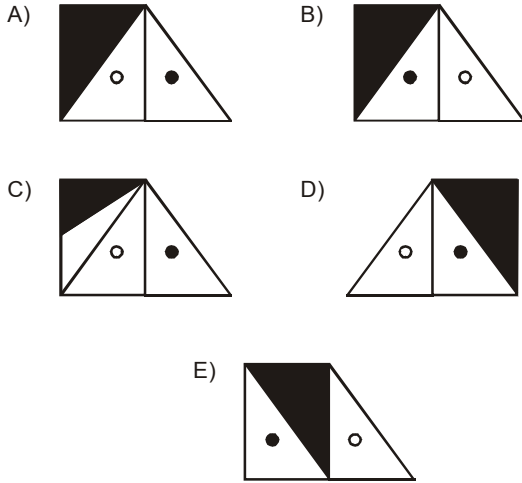


21 Kasım 2009 HB-101-A

91.



Yukarıda şeffaf bir eşkenar üçgen verilmiştir. Bu üçgen ilk önce d_1 doğrusu çevresinde ok yönünde, sonra d_2 doğrusu çevresinde ok yönünde katlanırsa oluşan yeni şekil aşağıdakilerden hangisi olur?



92 - 94. sorular aşağıdaki bilgilere göre cevaplandırılacaktır.

0, 1, 2, 3, 4, 5, 6 ve 7 rakamları kullanılarak 4 basamaklı doğal sayılar yazılacaktır.

92. Buna göre, 5000 den küçük kaç tane cift sayı yazılabilir?

- A) 1024
B) 1792
C) 2048
D) 3584
E) 4096

93. Basamaklarda 3 ve 5 in yer almadığı rakamları birbirinden farklı kaç doğal sayı yazılabilir?

- A) 1260
B) 1080
C) 720
D) 600
E) 300

94. Basamaklarda 6 nın en az 1 kere kullanıldığı kaç doğal sayı yazılabilir?

- A) 1183
B) 1526
C) 1695
D) 1820
E) 2038

21 Kasım 2009 HB-101-A

95. ve 96. sorular aşağıdaki bilgilere göre cevaplandırılacaktır.

Bir sayının 7'ye bölümü şu şekilde bulunur:

- Sayı birler basamağından başlamak üzere üçer üçer gruplandırılır. Gruplar sırasıyla +, -, + ... işaretlerini alır. İki basamak ya da tek basamak kalırsa o basamaklar + ya da - işaretlerini alır.
- Sayı birler basamağından başlayarak başa doğru 132 132..... şeklinde numaralandırılır.
- Her bir basamaktaki rakam karşılık geldiği sayıyla çarpılır ve aldığı işarete göre toplanır ya da çıkarılır.

8 basamaklı abcdefgh sayısını ele alalım:

$$\begin{array}{cccccccc} + & - & + & & & & & \\ a & b & c & d & e & f & g & h \\ \downarrow & \downarrow & \downarrow & \downarrow & \downarrow & \downarrow & \downarrow & \downarrow \\ 3 & 1 & 2 & 3 & 1 & 2 & 3 & 1 \end{array}$$

$3.a + 1.b - 2.c - 3.d - 1.e + 2.f + 3.g + 1.h$ toplamının sonucu 0 veya 7 nin katı olan sayılar, 7 ile tam bölünür.

Örnek: 154238 sayısı;

$$\begin{array}{cccccccc} - & + & & & & & & \\ 1 & 5 & 4 & 2 & 3 & 8 & & \\ \downarrow & \downarrow & \downarrow & \downarrow & \downarrow & \downarrow & & \\ 2 & 3 & 1 & 2 & 3 & 1 & & \end{array} \Rightarrow -2.1-3.5-1.4+2.2+3.3+1.8=0$$

Sonuç "0" olduğu için 154238 sayısı 7 ile tam bölünür.

95. Bu bilgilere göre, 1641a746 sayısının 7 ile tam bölünebilmesi için a aşağıdakilerden hangisi olmalıdır?

- A) 3
- B) 4
- C) 6
- D) 7
- E) 9

96.

- I. 167860
- II. 506491
- III. 601482

Yukarıdaki sayılardan hangileri 7 ye tam olarak bölünür?

- A) Yalnız I
- B) Yalnız III
- C) I ve II
- D) I ve III
- E) I, II ve III

97 - 99. sorular aşağıdaki bilgilere göre cevaplandırılacaktır.

Mine, Ceren, Bora, Eren ve Mert'in meslekleri, yaşları ve eşlerinin isimleri karışık olarak aşağıda verilmiştir.

Meslekleri: Avukat, Öğretmen, Doktor, Bankacı

Yaşları: 32, 32, 35, 39, 43

Eşlerinin isimleri: Ayşe, Kerem, Ali, Ceyda, Gizem

- Yaşı en büyük olan öğretmendir.
- Mine tek bayan doktordur.
- Mert, Bora'dan 4 yaş küçüktür.
- Ali'nin eşi en genç olandır.
- Ceyda'nın eşi Gizem'in eşinden 4 yaş büyüktür.
- Yaşları aynı olanlar doktordur.

97. Bu bilgilere göre, mesleği kesin olarak bilinen kaç kişi vardır?

- A) 1
- B) 2
- C) 3
- D) 4
- E) 5

98. Yukarıdaki bilgilere göre, aşağıdaki ifadelerden hangisi kesinlikle yanlıştır?

- A) Bora, Ceyda ile evli ve avukattır.
- B) Ayşe'nin eşi 32 yaşındadır.
- C) Gizem'in eşi öğretmendir.
- D) Mine, Ali ile evlidir.
- E) Mert 39 yaşında ve bankacıdır.

99. Yukarıdaki bilgilere göre, Bora öğretmen olsaydı kim 35 yaşında olurdu?

- A) Ceren
- B) Bora
- C) Eren
- D) Mine
- E) Mert

21 Kasım 2009 HB-101-A

100 - 102. sorular aşağıdaki bilgilere göre cevaplandırılacaktır.

Bir öğretmen meslek hayatı boyunca K, L, M, N, P ve R illerinde farklı sürelerde çalışmıştır.

- L ilinde K ilinden daha sonra ve daha uzun süre, N ilinden ise daha önce ve daha kısa süre çalışmıştır.
- K ilinde P ilinden hemen önce ve daha uzun süre, M ilinden ise daha sonra ve daha kısa süre çalışmıştır.
- En kısa süre 4. sırada gittiği ilde çalışmıştır.
- En uzun süre ilk gittiği ilde çalışmıştır.

100 Bu bilgilere göre, ilk gittiği il aşağıdakilerden hangisi olabilir?

- A) K
B) L
C) M
D) N
E) P

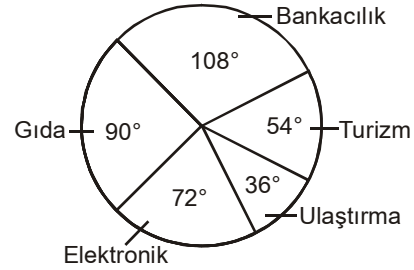
101 Yukarıdaki bilgilere göre, en kısa R ilinde çalışmış olsaydı 3. sırada gittiği il aşağıdakilerden hangisi olurdu?

- A) K
B) L
C) M
D) N
E) P

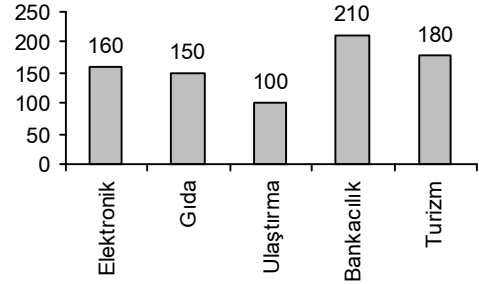
102 Yukarıdaki bilgilere göre, gidiş sırası kesin olarak belli olan kaç tane il vardır?

- A) 1
B) 2
C) 3
D) 4
E) 5

103 - 105. sorular aşağıdaki grafiğe göre cevaplandırılacaktır.



Yıllık Ciro (Milyon TL)



Yukarıdaki dairesel grafikte, bir holdingin faaliyet gösterdiği alanların dağılımı ve sütun grafikte holdingin söz konusu sektörlerden elde ettiği yıllık ciroları verilmektedir.

103 Bu bilgilere göre, gıda sektörünün holding içerisindeki dağılımı yüzde kaçtır?

- A) 15
B) 20
C) 25
D) 30
E) 35

104 Yukarıdaki bilgilere göre, birim başına cirosu en yüksek olan sektör aşağıdakilerden hangisidir?

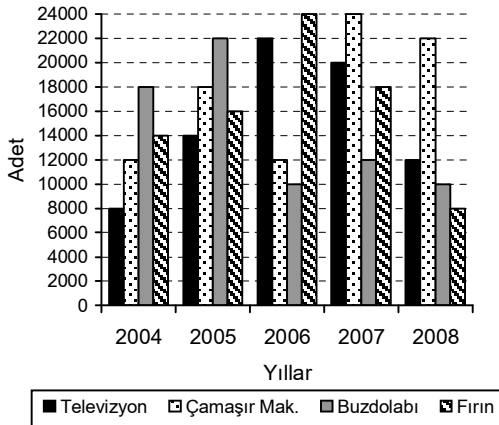
- A) Elektronik
B) Bankacılık
C) Turizm
D) Ulaştırma
E) Gıda

21 Kasım 2009 HB-101-A

105 Yukarıdaki bilgilere göre, elektronik sektörden elde edilen ciro, toplam cironun yüzde kaçdır?

- A) 20
- B) 25
- C) 30
- D) 35
- E) 40

106 - 108. sorular aşağıdaki grafiğe göre cevaplandırılacaktır.



Yukarıdaki grafikte bir beyaz eşya mağazasında 2004-2008 yılları arasında satılan ürünlerin sayıları verilmiştir.

106 Bu bilgilere göre, satılan buzdolabı sayısının tüm satış oranının en yüksek yüzdeye sahip olduğu yıl aşağıdakilerden hangisidir?

- A) 2004
- B) 2005
- C) 2006
- D) 2007
- E) 2008

107 Yukarıdaki bilgilere göre, aşağıdaki ifadelerden hangisi yanlıştır?

- A) 2006 yılında, bir önceki yıla göre televizyon ve fırın satışında aynı sayıda artış olmuştur.
- B) 2006 yılında fırın satışı bir önceki yıla göre %50 artmıştır.
- C) Bir önceki yıla göre çamaşır makinesi satışı en çok 2007 yılında artmıştır.
- D) 2007 yılında fırın satışı bir önceki yıla göre %30 azalmıştır.
- E) 2008 yılında, bir önceki yıla göre çamaşır makinesi ve buzdolabı satışında aynı sayıda azalma olmuştur.

108 Yukarıdaki bilgilere göre, toplam ürün satışlarında bir önceki yıla göre 6000 adet artışın olduğu yıl aşağıdakilerden hangisidir?

- A) 2004
- B) 2005
- C) 2006
- D) 2007
- E) 2008

21 Kasım 2009 HB-101-A

**YABANCI DİL
İNGİLİZCE**

109-112. sorular bir metin oluşturmaktadır. Soruları sırayla okuyarak cümlelerdeki boşlukları doğru şekilde tamamlayan kelimeyi veya ifadeyi bulunuz.

109 A large part of a child's life is spent watching cartoons; it is important to find how much of a role gender stereotypes play in the media.

- A) when
- B) for example
- C) in contrast
- D) therefore
- E) while

110 The findings suggest that the cartoons reveal ways society's view of gender is evolving.

- A) if
- B) in which
- C) when
- D) where
- E) what

111 The trends in the cartoons reflect such cultural and social changes as mothers in the workforce and fathers staying at home and raising the kids.

- A) may
- B) should
- C) would
- D) have to
- E) must

112 These recent social and cultural changes our culture's views of gender.

- A) mustn't have complicated
- B) should have complicated
- C) ought to have complicated
- D) would have complicated
- E) may have complicated

113. ve 114. sorularda, verilen Türkçe cümleye anlamca en yakın İngilizce cümleyi bulunuz.

113 Kültür turlarına meraklı gezginlerin olmazsa olmaz duraklarından birisi olan Göynük, İstanbul'a arabayla 2,5 saat uzaklıktadır.

- A) Only 2,5 hour drive away from İstanbul, Göynük has gained the interest of every traveler who is seeking cultural destinations.
- B) Among the cultural destinations sought after by travelers, Göynük, a mere 2,5 hour drive away from İstanbul comes at the top of the must-see stops list.
- C) Göynük, one of the must-see stops for travelers who seek cultural destinations, is just a 2,5 hour drive away from İstanbul.
- D) If you are looking for cultural places to visit, then one of the must-see places is Göynük, which is only 2,5 hours away from İstanbul.
- E) Göynük, a place that everybody looking for cultural destination must go and visit, is only 2,5 hours away from İstanbul.

21 Kasım 2009 HB-101-A

114 1991 yılında Finlandiya'da hayata geçen GSM altyapısı, bugün 200'den fazla ülkede 2 milyardan fazla insana hizmet vermektedir.

- A) Over two billion people in more than 200 countries benefit from the GSM infrastructure created in Finland in 1991.
- B) Serving over two billion people in more than 200 countries, GSM first started in Finland in 1991.
- C) Finland, where the GSM infrastructure first started in 1991, serves over two billion people in more than 200 countries.
- D) The GSM infrastructure created in Finland in 1991 serves over two billion people in more than 200 countries today.
- E) GSM infrastructure, first started in Finland, has been serving 2 billion people in over 200 countries since 1991.

115. ve 116. sorularda, verilen İngilizce cümleye anlamca en yakın Türkçe cümleyi bulunuz.

115 Imagine for a second that all the water in the world came from a single well. What wouldn't we do to protect it?

- A) Bir an için dünya üzerindeki bütün suların bir tek kuyudan çıktığını düşünelim. Onu korumak için neler yapmazdık?
- B) Dünya üzerindeki bütün suların bir tek kuyudan çıktığını düşünecek olursak bu kuyuyu korumak için neler yapacağımızı bir an için hayal eder misiniz?
- C) Dünya üzerinde suların tek bir kaynaktan çıkması bu kuyuyu korumak için neler yapmamız gerektiğini hayal ettirir mi bize?
- D) Bir an için dünyadaki bütün suların bir kuyudan çıktığını hayal etsek bile o kuyuyu korumak için neler yapabileceğimizi hayal edebilir miydik?
- E) Bütün suları tek bir kuyudan çıkan dünyada onu korumak için neler yapabileceğimizi bir an için bile hayal etmek istemiyoruz.

116 İstanbul Modern Art Museum is celebrating its fifth year with an exhibition of its renewed and expanded collection.

- A) İstanbul Modern Sanat Müzesi beşinci kuruluş yılı kutlamaları arasında yenilenen ve genişleyen koleksiyonunun sergisi yer alıyor.
- B) Beş yıl önce faaliyete geçen İstanbul Modern Sanat Müzesi, beşinci yıl kutlamalarına yenilenen ve genişleyen koleksiyonunun sergisi ile başlıyor.
- C) İstanbul Modern Sanat Müzesi, beşinci yılını yenilenen ve genişleyen koleksiyonunun sergisi ile kutluyor.
- D) İstanbul Modern Sanat Müzesi yenilenen ve genişleyen koleksiyonunu sergileyerek beşinci yılını kutluyor.
- E) İstanbul Modern Sanat Müzesi'nin beşinci yıl kutlamaları yenilenen ve genişleyen koleksiyonunun sergisi ile başlıyor.

21 Kasım 2009 HB-101-A

117 - 120. sorular aşağıdaki parçaya göre cevaplandırılacaktır.

Do I know the value of my home in today's market?

A common mistake home owner sellers make is to price their home too high, Nichole says. As a result, the property languishes on the market. "When a home sits for a long while, buyers start to wonder what is wrong with it," she says. "The best option is to come out of the gate priced right."

To market a home competitively, sellers should research the final sales price of similar properties in their community. Updated sales information is available to agents through proprietary reports, but individual owners can also dig up sales data from public sources, says Amy Bohutinsky, vice president of an online real estate service that provides data on homes.

Online real estate sites may offer sales trend information for local neighborhoods, sales prices for comparable homes in the community, known as "comps," and the average length of time homes have remained on the market, Bohutinsky says. "It takes a lot of work to look at this data and figure how to price your home, but it's important in order to come up with the right value," she says.

117 What do most home owners are likely to do when they want to sell their house?

- A) They leave it on the market for too long.
- B) They make a mistake.
- C) They price it right.
- D) They put a price that is very expensive.
- E) They think they will have more buyers if the price is high.

118 What is the disadvantage of having a house on the market for a long time?

- A) It is difficult to determine the right price.
- B) Buyers think there is something wrong with the house.
- C) Home owners sell the house for more than its value.
- D) It results in a non-competitive real estate market.
- E) Buyers cannot decide what the best option is.

119 To be able to price a house right, home owners should

- A) be competitive
- B) hire agents who will provide proprietary reports
- C) provide data to online sources
- D) consult with real estate agencies in their community
- E) find out the sale prices of similar houses in the neighborhood

120 What does "comps" mean?

- A) sales prices for comparable homes in the community
- B) sales trend information for local neighborhoods
- C) the average length of time homes have remained on the market
- D) online estate sites
- E) the right value for similar houses

21 Kasım 2009 HB-101-A

**YABANCI DİL
ALMANCA**

109-112. sorularda, cümledeki boşluğu doğru şekilde tamamlayan kelimeyi veya ifadeyi bulunuz.

109 Der Zinssatz ist der in Prozent ausgedrückte Preis für den geliehenen

- A) Konto
- B) Paket
- C) Aktie
- D) Kredit
- E) Fond

110 Aktienfonds sind im Abstieg und deshalb sind sie derzeit nichts für Anleger mit schwachen

- A) Kapital
- B) Nerven
- C) Zahlen
- D) Ausgaben
- E) Höhen

111 Die Europäische Union und die Türkei wollen die Pipeline "Nabucco" betreiben.

- A) gemeinsam
- B) gegen
- C) mit
- D) für
- E) seitdem

112 rund vier Wochen waren bei den von schweren Überschwemmungen begleiteten Unwettern in Istanbul und Tekirdağ mindestens 37 Menschen ums Leben gekommen.

- A) Auf
- B) Nach
- C) Zu
- D) An
- E) Vor

113-114. sorularda, verilen Türkçe cümlelerin Almanca dengini bulunuz.

113 İstihdam piyasasında yapılacak reformun, istihdamda canlılık yaratıp işsizliğe son vermesi bekleniyor.

- A) Es wird erwartet, daß eine Reform des Arbeitsmarktes noch mehr Menschen Arbeit bringt und die Arbeitslosigkeit schrumpft.
- B) Es wird behauptet, daß eine Reform auf dem Arbeitsmarkt keinem eine zusätzliche Arbeit bringt und die Arbeitslosigkeit soll kein Ende haben.
- C) Eine Reform des Arbeitsmarktes soll wieder mehr Menschen Arbeit bringen und der Arbeitslosigkeit ein Ende setzen.
- D) Eine Reform des Arbeitsmarktes soll mehr Menschen mehr Arbeitslosigkeit bringen, womit der Reform ein Ende gesetzt wird.
- E) Keine Reform des Arbeitsmarktes konnte mehr Menschen Arbeit bringen und die Arbeitslosigkeit beenden.

21 Kasım 2009 HB-101-A

114 Teknik ve sayı serbesttir, ancak eserler orijinal olmalıdır.

- A) Hier kommt es darauf an, ob die Werke original sind und ob eine bestimmte Technik verwendet wird.
- B) Es ist egal, wieviele Werke man schickt, wichtig ist, daß die Werke original sind.
- C) Technik und Anzahl ist begrenzt, aber die Originalität ist frei.
- D) Technik und Anzahl ist frei, jedoch müssen die Werke original sein.
- E) Es müssen mindestens drei Original-Arbeiten mit verschiedenen Techniken sein.

115-116. sorularda, verilen Almanca cümlelerin Türkçe dengini bulunuz.

115 Spielfilme laden die Zuschauerinnen dazu ein, sich in fremde Welten und Figuren hineinzusetzen.

- A) Sinema filmleri, seyircilerini, yabancı dünyaları ve figürleri tanımaya davet ediyor.
- B) Sinema filmlerindeki, seyirciler ve figüranlar yeni filmler için davetiye alıyorlar.
- C) Sinema filmleri sayesinde, yabancı dünyaya yeni bakış açısı oluşturan seyirciler, tekrar davet edilmek istedi.
- D) Yabancı dünyaları ve yaşayışları tanıma fırsatı veren sinema filmleri, yeni sezon davetlerini satışa sundu.
- E) Bu sezonun yeni filmleri; yabancı dünyayı ve yeni figüranları tanıtmak amacıyla davetlileri bekliyor.

116 Es war notwendig, eine Reihe Vorbereitungen zu treffen, damit die neue Steuerreform in Kraft treten kann.

- A) Vergi reformunun bu yıl yürürlüğe girebilmesinin tek şartı, gerekli hazırlıkların tamamlanmasıdır.
- B) Hazırlıkların tamamlanması halinde, bu yıl yeni vergi reformu yürürlüğe girebilecek.
- C) Yeni vergi reformunun yürürlüğe girebilmesi için, bir dizi hazırlık yapılması gerekiyordu.
- D) Yeni vergi reformunun bu yıl yürürlüğe girmesi, yapılan bir dizi hazırlık sayesinde oldu.
- E) Yeni yürürlüğe girecek olan vergi reformu için hazırlıklar tamamlandı.

117-120 sorularda, verilen paragrafta boş bırakılan yeri doğru şekilde tamamlayan ifadeyi bulunuz.

117 Wer ein Haus besitzt, der muss auch renovieren und modernisieren. Das Bad, die Küche, vor allem die Heizungsanlage und die Wärmedämmung muss erneut werden. Eventuell sollte man dann auch auf barrierefreien Zugang im Alter denken und die Treppen ändern.

- A) Wenn Sie das Geld für die Immobilie genommen hätten, wären sie jetzt schon mietfrei!
- B) Ein Vertrag ist ein Vertrag und daran darf nicht gerüttelt werden.
- C) Dann können Sie mit etwas Geschick Ihr Immobiliendarlehen günstiger ablösen.
- D) Spätestens nach 20 Jahren sind so einige Dinge nicht mehr zeitgemäß.
- E) Somit können Sie für den Fall eines guten Geschäfts an der Börse das Wohneigentum kostenfrei zurückzahlen.

21 Kasım 2009 HB-101-A

118 Im Dorf Demirciler wurden eine Moschee und sieben Häuser schwer beschädigt. Viele Häuser standen unter Wasser. Eine Verbindungsstrasse wurde auf einer Strecke von elf Kilometern beschädigt. In der Region an der Grenze zu Georgien hatte es am Vortag heftig geregnet. Mehrere Häuser in dem Gebiet seien sicherheitshalber bereits vor dem Unwetter geräumt worden, sagte Provinzgouverneur Mustafa Yemlihalioğlu.

- A) Die Industrieaufträge deuteten auf eine Verbesserung der Lage hin.
- B) Nach den erneuten Regenfällen stürzte in der Ortschaft Kale ein fünfstöckiges Wohnhaus ein.
- C) Volkswirte türkischer Großbanken berichteten am Donnerstag in einer Umfrage der Presse-Agentur.
- D) Im Schnitt der vergangenen drei Jahren war die September-Arbeitslosigkeit um knapp 140.000 zurückgegangen.
- E) Nach Angaben der Gesundheitsorganisation sind alle Krankenhäuser renoviert worden.

119 Gül hob nach Angaben von Diplomaten hervor, die Annäherung werde ein langer und schwieriger Prozess sein. Türkische Zeitungen werteten den Besuch Sarkissjans als "Sieg für den Frieden".

- A) Als Experte tourte er durch die Lande, um Vorträge zu halten, Psychologen, Richter und Staatsanwälte fortzubilden.
- B) Ich kann mich mit beiden Kulturen identifizieren, was für mich eine Bereicherung ist.
- C) Nach monatelangen Vorbereitungen hatten beide Seiten am vergangenen Wochenende mehrere Protokolle unterzeichnet.
- D) Der Sieg ging knapp, aber verdient an Ersin Oğuz, der eine super Linie hat, messerscharfe Definition und eine super Kür auf die Bühne brachte.
- E) Er hoffe aber, dass die Unterstützung für das in beiden Ländern umstrittene Projekt wachse.

120 Die Frisur sitzt, das Make-up auch. Vor der Kamera steht eine perfekt gestylte Nazan (32). Und man fragt sich: Klar gibt es beim Fernsehen einen Stylisten, aber auch privat zeigt sich die RTL-Moderatorin immer makellos. Die Haare trägt sie meist offen, mit einem "Huch, ich hatte heute morgen keine Zeit" -Zopf sehen wir sie nie. Dass es Momente gibt, in denen Sie am liebsten "alle Spiegel um sich herum zerstören" möchte, kann man kaum glauben...

- A) Wie schafft sie das bloß?
- B) Sie hat bereits gute Ansätze gezeigt!
- C) Welche Art von Bilder entstehen hier?
- D) Ist das wirklich nötig?
- E) Finden sie das nicht schön?

21 Kasım 2009 HB-101-A

**YABANCI DİL
FRANSIZCA**

109-112. sorularda, cümledeki boşluğu doğru şekilde tamamlayan kelimeyi veya ifadeyi bulunuz.

109 est votre numéro de compte ?

- A) Quand
- B) Qui
- C) Combien
- D) Quel
- E) Pourquoi

110 banque possède sa propre culture.

- A) Aucun
- B) Chaque
- C) Des
- D) Nos
- E) Tous

111 Vous devrez un compte à vue.

- A) ouvrir
- B) ouvrez
- C) ouvert
- D) ouverture
- E) ouverts

112 Un ordre de virement peut à tout moment avant exécution.

- A) annulée
- B) s'annulait
- C) annulation
- D) annuler
- E) être annulé

113-114. sorularda, verilen Fransızca cümlelerin Türkçe dengini bulunuz.

113 Choisissez la banque qui répond le mieux à vos besoins.

- A) Bankanızı seçerken ihtiyaçlarınıza göre davranın.
- B) Seçtiğiniz banka ihtiyaçlarınızı en iyi şekilde karşılar.
- C) İhtiyaçlarınızı en iyi şekilde karşılayan bankayı seçin.
- D) Banka, en önemli ihtiyaçlarınızı karşılar.
- E) En çok ihtiyaç duyduğunuz bankayı seçmelisiniz.

114 Le montant d'intérêt varie en fonction du type de compte et des taux d'intérêt.

- A) Toplam faiz, hesabınıza uygulanan faiz oranına göre değişir.
- B) Faiz oranı arttıkça, hesabınızda biriken faiz miktarı da artar.
- C) Faiz oranı ve hesap türleri, bankadan bankaya değişiklik gösterir.
- D) Faiz tutarı, hesap türüne ve faiz oranlarına göre değişir.
- E) Faiz tutarı hesaplanırken, farklı faiz oranları uygulanır.

21 Kasım 2009 HB-101-A

115-116. sorularda, verilen Türkçe cümlelerin Fransızca dengini bulunuz.

115 Enflasyon iki yıldan beri artmaya devam ediyor.

- A) L'inflation continue à augmenter depuis deux ans.
- B) L'inflation a beaucoup augmenté en deux ans.
- C) L'inflation est en diminution depuis l'année dernière.
- D) L'inflation avait cessé d'augmenter il y a deux ans.
- E) L'inflation commence à diminuer ces deux dernières années.

116 Banka sizi bir kart almaya zorlayamaz.

- A) Vous n'êtes pas obligé de prendre une carte bancaire.
- B) Prendre une carte bancaire n'est pas nécessaire.
- C) La banque ne peut pas vous obliger à prendre une carte.
- D) La banque n'est pas obligée à vous donner une carte.
- E) La banque ne peut pas refuser de vous donner une carte.

117. ve 118. sorularda, sırasıyla okunduğunda anlam bütünlüğünü bozan cümleyi bulunuz.

- 117 I. La Banque nationale suisse appartient à ses actionnaires.**
- II. Ses actions sont détenues en majorité par les cantons et les banques cantonales.**
- III. De nombreux particuliers sont aussi actionnaires de la Banque nationale suisse.**
- IV. En France, c'est Banque de France qui est chargé de l'émission des billets de banque.**
- V. Mais, le nombre de voix qu'un particulier a le droit d'exercer est limité.**

- A) I
- B) II
- C) III
- D) IV
- E) V

- 118 I. Les montants très élevés imprimés sur les billets de banque sont le résultat d'une longue période d'inflation.**
- II. La carte de retrait permet seulement les retraits dans les distributeurs automatiques.**
- III. De tels billets de banque deviennent peu pratiques dans la vie quotidienne.**
- IV. La personne qui veut payer quelque chose doit calculer en centaines de milliers, voire en millions.**
- V. Des pays confrontés à une telle situation ont effacé quelques zéros sur les billets pour simplifier leur utilisation.**

- A) I
- B) II
- C) III
- D) IV
- E) V

21 Kasım 2009 HB-101-A

119. ve 120. soruları verilen paragraflara göre cevaplayınız.

119 L'euro est la monnaie adoptée par les pays participant à l'Union économique et monétaire. Les billets sont au nombre de 7. Ces billets sont les mêmes pour tous les pays utilisant l'euro. Les pièces sont au nombre de 8. Ces pièces sont en partie spécifiques au pays émetteur. En effet, si une face est commune à tous les pays utilisant l'euro, l'autre est nationale. Depuis le 1er janvier 1999, les organismes financiers et économiques peuvent échanger directement en euros. Les billets et les pièces sont en circulation depuis janvier 2002.

D'après le texte, les pièces en euros sont

- A) au nombre de sept
- B) utilisées seulement dans le pays émetteur
- C) les mêmes pour tous les pays de l'Union européenne
- D) ne sont pas valables dans toute l'Europe
- E) utilisées couramment à partir de janvier 2002

120 Dans une économie de marché, les prix des biens et des services dépendent de l'offre et de la demande. Si la demande est élevée, le prix tend généralement à augmenter. Pour ceux qui offrent des biens ou des services, il devient alors intéressant de proposer plus de biens ou de services. Mais, si l'offre augmente alors que la demande reste constante, les prix baisseront peut-être de nouveau. Ainsi, les variations de prix permettent à l'offre et à la demande de s'équilibrer.

D'après le texte, les prix des biens et des services peuvent baisser, quand

- A) l'offre augmente mais la demande reste la même
- B) la demande est élevée
- C) les prix ont tendance à augmenter
- D) l'offre et la demande s'équilibre
- E) il y a une économie de marché

SINAVDA UYGULANACAK KURALLAR

1. Sınav süresince görevlilerle konuşmak ve soru sormak yasaktır. Sınav salonunda konuyla ilgili kitap, not ve benzeri şeyler bulundurmamak sınavın iptalini gerektirir.
2. Sınav sırasında kopya yapan, yapmaya teşebbüs eden ve kopya verenlerin kimlikleri sınav tutanağına yazılacak ve sınavları geçersiz sayılacaktır.
3. Sınav sırasında herhangi bir nedenle dışarı çıkmak yasaktır.
4. Sınavın başlamasını izleyen ilk 30 dakika ve sınav süresinin son 5 dakikası içinde, sınavlarını tamamlasalar bile hiçbir adayın salondan çıkmasına izin verilmeyecektir. Sınavın başlamasını izleyen ilk 15 dakikadan sonra hiç bir aday sınava alınmaz.
5. Size verilen cevap kâğıdının üzerinde yazan numara ve ismin size ait olup olmadığını kontrol ediniz. Cevap kâğıdı size ait değilse, görevlileri uyarıp size ait olan cevap kâğıdını alınız. Daha sonra cevap kâğıdı üzerinde ayrılmış olan yerlere TC kimlik numaranızı ve test grubunuzu kodlayınız, adınızı soyadınızı yazınız ve ilgili yeri imzalayınız.
6. Soru kitapçığının sayfalarının eksik olup olmadığını, basım hatasının bulunup bulunmadığını kontrol ediniz. Varsa özürlü soru kitapçığını değiştirmesi için salon başkanına başvurunuz. Soru kitapçığının üzerinde ayrılan yere, adınızı, soyadınızı, TC kimlik numaranızı ve bu salonun numarasını yazınız. Sınav sonunda soru kitapçıkları toplanacak ve sınav merkezinde tek tek incelenecektir. Soru kitapçığının bir tek sayfası bile eksik çıksa sınavınız geçersiz sayılacaktır.
7. Soru kitapçığının sayfalarındaki boş yerleri müsvedde yapmak için kullanabilirsiniz. Başka bir kâğıdı müsvedde olarak kullanmak yasaktır.
8. Adayların sorulara verdikleri yanıtları herhangi bir yere yazmaları ve bunu sınav salonundan dışarıya çıkarmaları yasaktır. Bu kurala uymayanların sınavları geçersiz sayılır.
9. Sınav sırasında sigara içilmesi, adayların birbirinden kalem, silgi vb. şeyleri istemesi yasaktır.
10. Sınav sırasında hesap makinesi kullanılabilir. Ancak üzerinde program yapılmasına, saklanmasına ve çalıştırılmasına izin veren (EXE, STORE, RUN gibi tuşları bulunduran) hesap makineleri kullanılamaz.
11. Adaylar sınav sırasında yanlarında telsiz, cep telefonu, çağrı cihazı vb. iletişim araçlarını bulunduramazlar. Yanlarında bu tür cihazları bulunanların, bunları sınav sonrasında almak üzere salon başkanına teslim etmeleri gerekir. Aksine davrananların sınavı geçersiz sayılır.
12. Biraz sonra dağıtılacak olan soru kitapçığında test ile ilgili açıklamalar yazılıdır. Bu açıklamaları okumadan ve size "SINAV BAŞLAMIŞTIR" denmeden soruları cevaplamaya başlamayınız.

SINAVLARINIZDA BAŞARILAR DİLERİZ.